

Họ và tên:

Lớp: 4.....

ĐỀ ÔN TẬP TOÁN CUỐI HỌC KÌ 2 (ĐỀ 1)


I. Trắc nghiệm:

Khoanh tròn vào chữ cái trước câu trả lời đúng:

Câu 1: Số gồm 5 trăm triệu, 2 triệu, 6 trăm nghìn, 7 trăm và 1 đơn vị là:

- A. 502 600 701 B. 520 060710 C. 502 006 071 D. 502 060 701

Câu 2: Hình đã tô màu $\frac{1}{2}$ số bông hoa là:



Câu 3: Trong số 724 165, giá trị của chữ số 4 gấp giá trị của chữ số 2 là:

- A. 2 lần B. $\frac{1}{4}$ lần C. 5 lần D. $\frac{1}{5}$ lần

Câu 4: Trong các phép tính dưới đây, phép tính có kết quả lớn nhất là:

- A. $\frac{2}{3} + \frac{1}{6}$ B. $1 - \frac{1}{3}$ C. $\frac{1}{2} \times \frac{7}{5}$ D. $\frac{23}{5} : 6$

Câu 5: Một cửa hàng nhập về 8 tạ gạo. Hôm qua cửa hàng bán được $\frac{2}{5}$ số gạo nhập về, hôm nay bán được $\frac{3}{10}$ số gạo nhập về. Vậy cửa hàng còn lại số ki-lô-gam gạo là:

- A. 240kg B. 320kg C. 480kg D. 180kg

II. Tự luận

Câu 1: Tính

$$\frac{1}{6} + \frac{11}{18} = \dots\dots\dots$$

$$\frac{3}{4} \times \frac{4}{7} = \dots\dots\dots$$

$$\frac{8}{9} - \frac{10}{45} = \dots\dots\dots$$

$$\frac{11}{12} : \frac{11}{4} = \dots\dots\dots$$

Câu 2: Tính bằng cách thuận tiện

a) $25 \times 5 \times 4 \times 20$

=

=

=

b) $\frac{5}{2} \times \frac{19}{13} + \frac{5}{2} \times \frac{7}{13}$

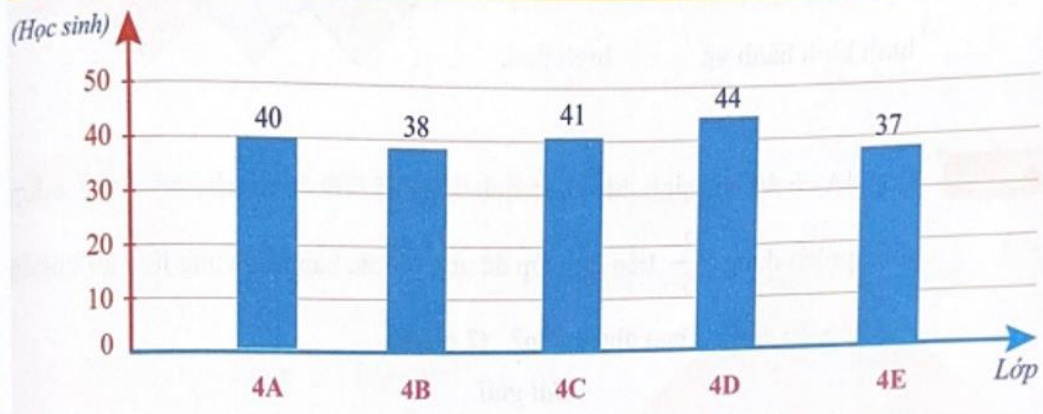
=

=

=

Câu 3: Quan sát biểu đồ sau và điền vào chỗ trống thích hợp:

Số học sinh khối lớp Bốn của Trường Tiểu học Kim Đồng

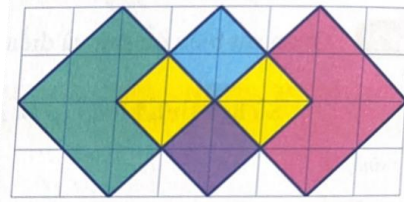


- a) Số học sinh nhiều nhất mà một lớp của khối lớp Bốn có là: học sinh
- b) Khối lớp Bốn của Trường Tiểu học Kim Đồng có học sinh
- c) Số học sinh lớp 4A chiếm tổng số học sinh khối lớp Bốn
- d) Trung bình mỗi lớp của khối lớp Bốn có học sinh

Câu 4: Số?

Hình vẽ bên có:

..... hình bình hành và hình thoi



Câu 5: Lớp 4A có 40 học sinh. Mỗi học sinh đóng 25 000 đồng tiền quỹ lớp. Cả lớp thống nhất dùng $\frac{2}{5}$ tiền quỹ lớp để ủng hộ các bạn nhỏ vùng lũ. Hỏi khi đó quỹ lớp 4A còn lại bao nhiêu tiền?

Bài giải

.....

.....

.....

.....

.....

.....

.....

.....